


2. ročník – písemná práce březen 2021

Jméno a příjmení žáka:.....

1. Napiš pod noty jejich jména:



.....

2. Doplň ke stupnicím jejich předznamenání (číslo a značku posuvky, např. G dur 1#).


Es dur..... D dur..... F dur..... H dur..... A dur.....

3. Která durová stupnice má 4#? ..... Která durová stupnice má 2b ?.....

4. Tady jsou všechny intervaly napsané na přeskáčku. Napiš nad každý „jeho“ číslo – tedy ke kolikátému stupni je to vzdálenost?


*sekunda kvarta oktáva tercie prima septima kvinta sexta*

5. Na následující notovou osnovu napiš správně předznamenání stupnice A dur a potom celou stupnici. Pod každou notu napiš její jméno.



.....

6. A nyní zkus nad každou notu A napsat takovou notu, aby mezi oběma byl předepsaný interval. Pomáhej si stupnicí A dur, abys napsal/a křížky k těm notám, u kterých musí být!



DĚKUJI!